

33:東北地方②

名前

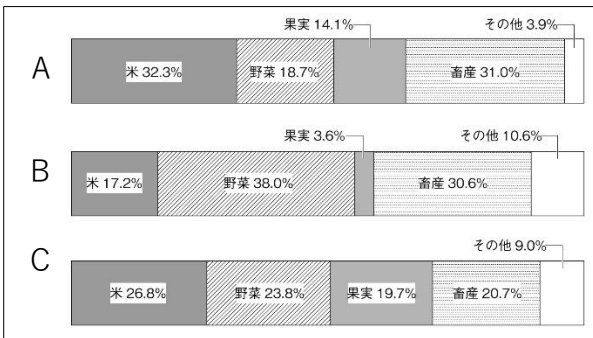
基本問題

- ① 東北地方で最も人口が多く、また東北地方で唯一の政令指定都市はどこか。
- ② 東北地方や北海道の太平洋側で、6月から8月にかけてふく、北東の冷たく湿った風を何というか。
- ③ ②の風の影響を強く受け、作物が十分に育たずに収穫量が減ってしまう災害を何というか。
- ④ 戦後の日本における、米の生産調整を行うための農業政策を何というか。
- ⑤ 1993年に日本初の世界自然遺産として登録された、ブナの原生林でおおわれている青森県と秋田県にまたがる山岳地帯を何というか。
- ⑥ 2011年に世界文化遺産に登録された、中尊寺、毛越寺、金鶏山などがある奥州藤原氏の本拠地として栄えた地域を何というか。
- ⑦ 2011年3月11日、三陸沖を震源とするマグニチュード9.0の大地震が発生し、1万9000人以上の死者を出したこの震災は何とよばれるか。

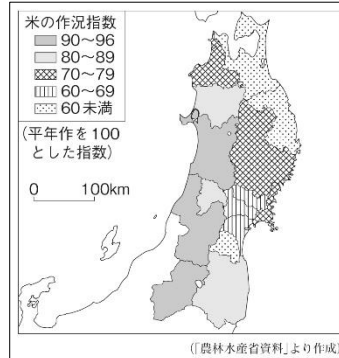
①	②	③	④
⑤	⑥	⑦	

発展問題

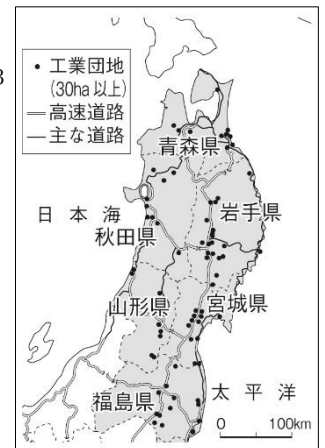
資料1



資料2



資料3



- ① 資料1中A~Cは、近畿地方、関東地方、東北地方のいずれかの農業産出額の割合を示している。A~Cの中で東北地方を示すものはどれか、1つ選んで記号を書きなさい。
- ② 次のA~Cの伝統的工芸品はそれぞれ何県の特産であるか、県名を書きなさい。
A: 南部鉄器 B: 津軽塗 C: 会津塗
- ③ 東北三大祭りと呼ばれる夏祭りを3つすべて書きなさい。(教科書やインターネットなどで調べてみましょう。)
- ④ 資料2は2003年に冷害に見舞われた東北地方の米の作況指数を示している。資料2から分かる、米の作況指数が落ち込んだ県は、「日本海側の県」・「太平洋側の県」のどちらであるか答えなさい。また、なぜそのような違いが生まれるのか、その理由を北東からふく風の名称を入れて答えなさい。
- ⑤ 東北地方に多くできた工業団地は、どのようなところにできているか、資料3を参考にして書きなさい。

①	②	A	B	C
③				
④	ど ち ら	理 由		
⑤				